






Gestion des données

1

					
	Grottes de Lascaux	Pont du Gard	Mont Saint Michel	Tour Eiffel	Château de Versailles
CP	0	2	11	14	3
CE1	5	6	9	12	6
CE2	12	9	13	12	9
CM1	9	11	8	14	11
CM2	11	15	14	20	13
TOTAL					

Si vous ne pouvez pas imprimer :

Sur le cahier rouge, tracer un petit trait rouge (celui qui sépare les différents travaux) , écrire Gestion des données en dessous, souligner en rouge et répondre aux questions les unes en dessous des autres en indiquant a) b) c)....

POUR TOUS : Faire les calculs de la question f) à la calculatrice

Si vous imprimez : coller la feuille dans le cahier rouge

- Combien d'élèves de CE2 ont visité la grotte de Lascaux? _____
- Combien d'élèves de CM1 ont visité le Pont du Gard? _____
- Quel est le site le plus visité pour les élèves de CE2? _____
- Combien d'élèves de CM2 ont visité le Mont Saint Michel?

- Quelle classe a visité le plus le château de Versailles?

- Complète la dernière ligne du tableau (TOTAL).
- Quel est le site le plus visité par les enfants de l'école?

- Quel est celui qui est le moins visité par les enfants de l'école?
