



**1** Colorie les masses nécessaires


726 g



918 g



426 g



**2** Dessine les masses marquées pour que le plateau soit à l'équilibre.

(aide toi de l'exercice du dessus pour connaître les masses marquées existantes, il en existe aussi de 1 kg.)

