


Prénom : .....

# MESURES

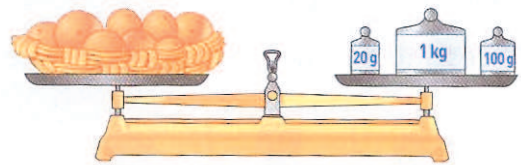
Date : ..... / ..... / .....

## Comparer et mesurer des masses.

1. Calcule combien pèse chaque panier de fruits.




Le panier de pommes pèse ..... g.




Le panier d'oranges pèse ..... g.

2. Quelle est la masse des poires ?



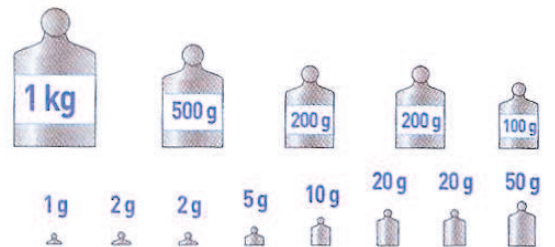
Le panier vide pèse ..... g.



Le panier plein pèse ..... g.

Les poires pèsent ..... g.

3. Entoure les masses marquées utilisées pour peser 1 374 g.



4. Colorie la masse la plus lourde.

1 550 g

955 g

2 kg

1 kg 550 g

5. Combien pèse le sac plein ?

Le papa de Léo part au marché avec un sac qui pèse 50 g. Il achète 2 kg 500 g de pommes, 1 kg 300 g de poires et 900 g de poireaux.

Le sac plein pèse ..... g ou ..... kg ..... g.

