

Maths: vendredi 5 juin

Les nombres décimaux: repérer la partie entière et la partie décimale dans le nombre; comparer les nombres décimaux


1/ Bien relire la leçon

Retenir

Pour comparer des nombres décimaux, il faut :

- Comparer les parties entières. Le plus grand est celui qui a la partie entière la plus grande.
 $42,18 > 41,99$
- Si les deux nombres ont la même partie entière, comparer le chiffre des dixièmes ; le plus grand est alors celui qui a le chiffre des dixièmes le plus grand. $42,18 < 42,21$
- Si les deux nombres ont la même partie entière et le même chiffre des dixièmes, le plus grand est celui qui a le chiffre des centièmes le plus grand. $42,17 > 42,15$

2/ Exercices :

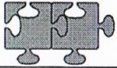
Numération	N6a 	<table border="1"><tr><td>1</td><td>2</td></tr><tr><td></td><td>3</td></tr></table>	1	2		3
1	2					
	3					
Utiliser les nombres décimaux						

1- Colorie la partie entière en rose et la partie décimale en jaune.

85,4 3236,923 98 0,76 1,009 843,08

2- Compare les nombres décimaux avec <, > ou = .







32,8 23,76 18 17,99 15,89 15,84
 23,05 23,5 56 56,6 34,97 34,92
 87,8 87,84 67,6 76,6 456,12 456,8

Numération	N6b 	<table border="1"><tr><td>1</td><td>2</td></tr><tr><td></td><td>3</td></tr></table>	1	2		3
1	2					
	3					
Utiliser les nombres décimaux						

1- Entoure le chiffre des dixièmes et encadre celui des centièmes.

390,56 123,08 876,3 45 67,41 456,789

2- Classe ces chiens du plus lourd au plus léger.

 Caniche : 7,25kg	 Teckel : 4,7 kg	 Westie : 7,08kg
 Chihuahua : 3,25kg	 Fox-terrier : 7,8 kg	 Bouledogue : 9,15 kg