




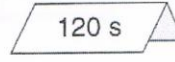




Objectif: calculer une durée.

1. Complète avec ces nombres:

7 30 ou 31 60 24 365 ou 366

1 heure = minutes 1 jour = heures 1 mois = jours
 1 minute = secondes 1 semaine = jours 1 an = jours

2. Colorie de la même couleur les étiquettes qui représentent la même durée.

			
(A)	(B)	(C)	(D)
			
(E)	(F)	(G)	(H)

3. Calcule le temps écoulé entre les différents instants.

marée haute : 10 h 22
 marée basse : 22 h 42

(1)

début du film : 20 h 50
 fin du film : 22 h 45

(2)

heure de départ : 8 h 30
 heure d'arrivée : 14 h 45

(3)

année de naissance : 1928
 année de décès : 2001

(4)

début des vacances : 2 juillet 2001
 fin des vacances : 31 août 2001

(5)

1: 2:
 3: 4:
 5:

4. Classe les durées de l'exercice 3 de la plus courte à la plus longue.

.....