


① Écris les heures

- du matin sur la 1^{ère} ligne.

- de l'après-midi ou du soir dans le cadran.



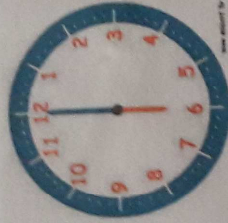
Il est h min.

--:--



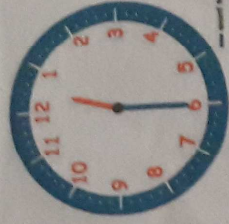
Il est h min.

--:--



Il est h min.

--:--



Il est h min.

--:--

② Dessine les aiguilles

- rouges pour les heures.

- bleues pour les minutes.

Matin

Après-midi/Soir



Il est 2 h 00 min.



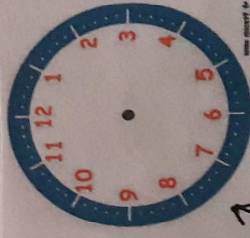
Il est 12 h 00 min.



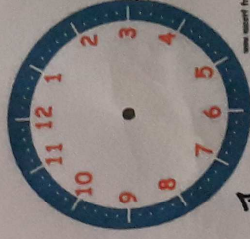
Il est 10 h 30 min.



Il est 6 h et demie.



15:00



19:30



23:00



00:30