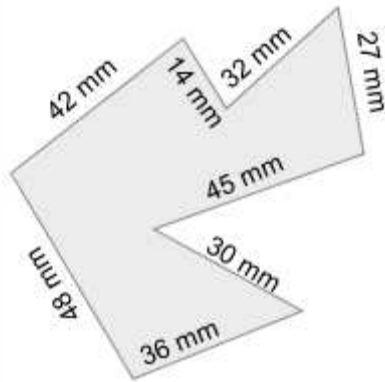






1) Voici un polygone.

Calcule la longueur de son périmètre (tu fais tout le tour)
 Exprime ta réponse en mm puis transforme-la
 en centimètres et millimètres.



2) Hier soir, le père de Marcus devait rentrer à 18h45min. Mais il avait 1/2h de retard sur l'horaire prévu.
 Il ne voulait pas rater son émission préférée qui commence à 19h heures. **A-t-il pu la voir en entier ?**

3) Reproduis et complète ce tableau sur ton cahier au crayon-papier
 (Tu peux utiliser la marge)
 Fais tes calculs côté raisonnement.

	7€ 	12€ 	28€ 	64€ 
Je donne	10€	15€	50€	100€
On me rend				

4) Voici les porte-monnaies de LEANE et ADRIEN.
Combien possède chaque enfant ?
Qui a le plus d'argent ?

