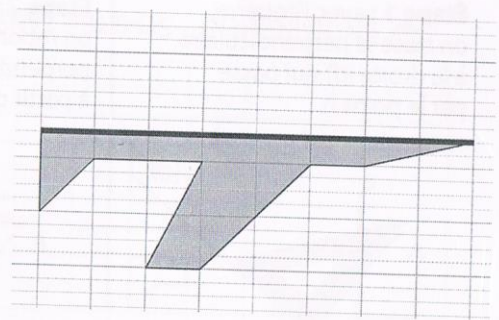
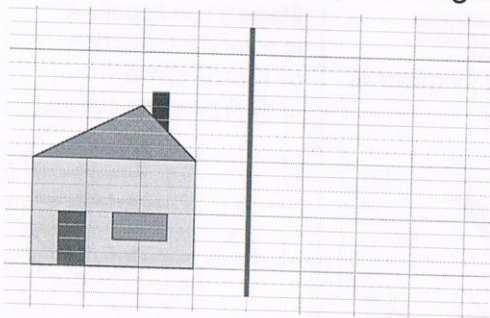
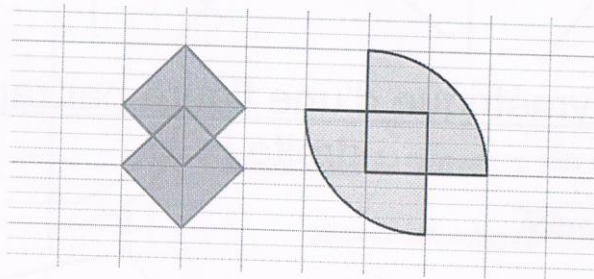


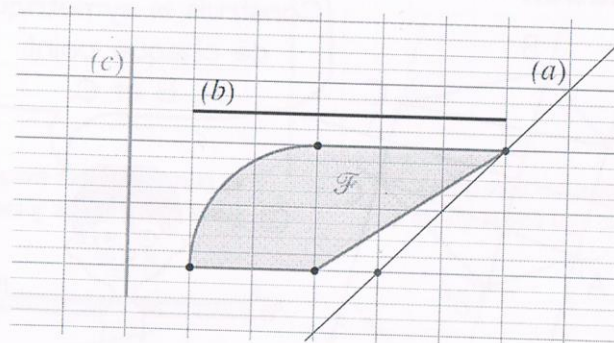
- ① a) Reproduis les figures ci-dessous
 b) Trace le symétrique de chaque figure par rapport à l'axe donné en t'aidant du quadrillage.



- ② a) Reproduis les figures ci-dessous
 b) Trace leur axe de symétrie.



- ③ a) Reproduis la figure F et les trois droites (a), (b) et (c).
 b) Construis le symétrique de la figure F par rapport à chacune des droites (a), (b) et (c).



SYMÉTRIE : Le lion

